






# 鏡映し -7

年 月 日

ま なか 真ん中の2つのパネルが、  
かがみ すいめん うつ 鏡と水面に映ったらそれぞれどう見えるでしょうか？  
そうそう か 想像して描きましょう。



かがみ  
鏡

すいめん  
水面

すいめん  
水面

かがみ  
鏡

